

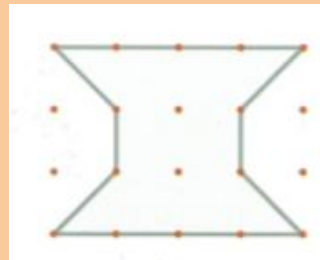
# Perimetroa eta azalera jolasa egiteko txartelak

S124 Zenbat koadroko azalera hartzen du irudi honek?  
Erabili ezazu geoplanoa irudia eraikitzeko hala behar baduzu.



matematiketan.eus

S125 Zenbat koadroko azalera hartzen du irudi honek?  
Erabili ezazu geoplanoa irudia eraikitzeko hala behar baduzu.



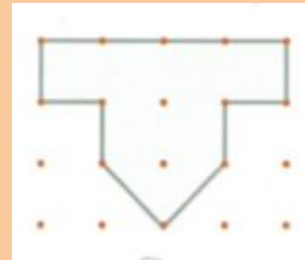
matematiketan.eus

S126 Zenbat koadroko azalera hartzen du irudi honek?  
Erabili ezazu geoplanoa irudia eraikitzeko hala behar baduzu.



matematiketan.eus

S127 Zenbat koadroko azalera hartzen du irudi honek?  
Erabili ezazu geoplanoa irudia eraikitzeko hala behar baduzu.



matematiketan.eus

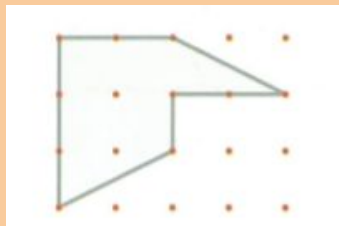
K128 Zenbat modu ezberdin bururatzen zaizkizu 4 koadroko azalera sortzeko? (Gogoratu ez daukatela koadro osoak izan beharrik. Zatiekin ere jardun daitekela.)

matematiketan.eus

K129 Zenbat modu ezberdin bururatzen zaizkizu 6 koadroko azalera sortzeko? (Gogoratu ez daukatela koadro osoak izan beharrik. Zatiekin ere jardun daitekela.)

matematiketan.eus

S130 Zenbat koadroko azalera hartzen du irudi honek? Erabili ezazu geoplanoa irudia eraikitzeko hala behar baduzu.



matematiketan.eus

K131 Zenbat koadroko azalera hartzen du irudi honek? Erabili ezazu geoplanoa irudia eraikitzeko hala behar baduzu.



matematiketan.eus

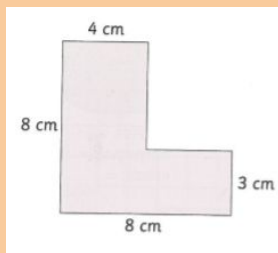
S132 Zenbat harlauza- koadroko azalera hartzen du zure ikasgelako lurrak?

matematiketan.eus

s133 Eraiki ezazu zure koadernoan 4x7 laukitxoko laukizuzena. Zenbateko azalera dauka?

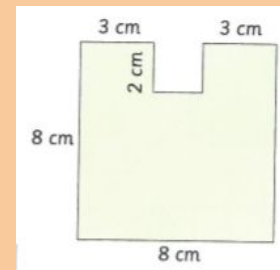
matematiketan.eus

S134 Zein da irudi honen perimetroaren luzera?



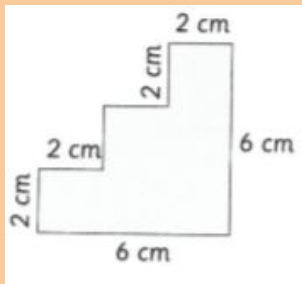
matematiketan.eus

S135 Zein da irudi honen perimetroaren luzera?



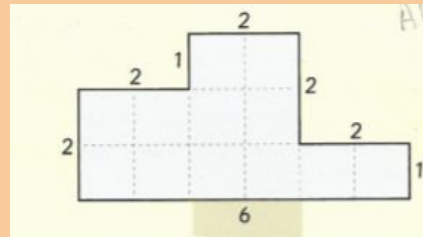
matematiketan.eus

K136 Zein da irudi honen perimetroaren luzera?



matematiketan.eus

K137 Zein da irudi honen perimetroaren luzera eta koadroen azalera?



matematiketan.eus

K138 Zenbat modu ezberdin bururatzen zaizkizu 8 koadroko azalera sortzeko? (Gogoratu ez daukatela koadro osoak izan beharrik. Zatiekin ere jardun daitekela.)

matematiketan.eus

K139 Zenbat modu ezberdin bururatzen zaizkizu 12 koadroko azalera sortzeko? (Gogoratu ez daukatela koadro osoak izan beharrik. Zatiekin ere jardun daitekela.)

matematiketan.eus

K140 1Zein da zure gelaren perimetroaren luzera?

matematiketan.eus

K141 Zein da zure mahaiaren perimetroaren luzera?

matematiketan.eus

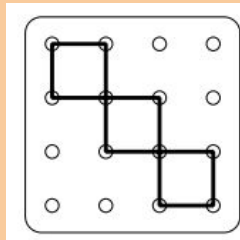
K142 Pentsatu modu bat zirkunferentzia baten perimetroa neurtzeko. Marraztu bat eta neurtu.

matematiketan.eus

S143 Azaldu ezazu zure hitzetan zer den azalera eta zer den perimetroa.

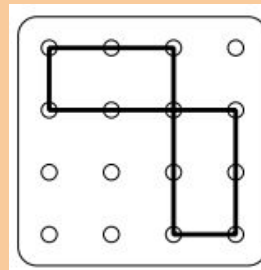
matematiketan.eus

s144 Zein da irudi honen perimetroa eta azalera?



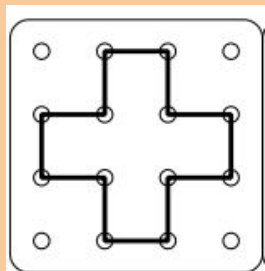
matematiketan.eus

s145 Zein da irudi honen perimetroa eta azalera?



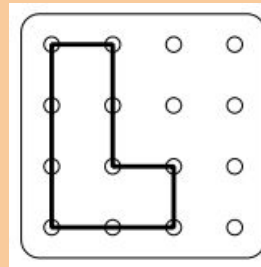
matematiketan.eus

s146 Zein da irudi honen perimetroa eta azalera?



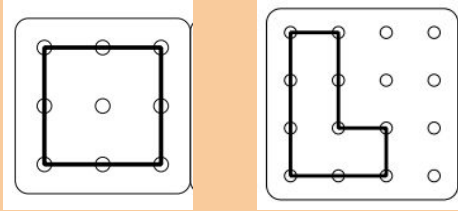
matematiketan.eus

s147 Zein da irudi honen perimetroa eta azalera?



matematiketan.eus

s148 Alderatu irudi hauen perimetroa eta azalerak.



matematiketan.eus

S149 Gure ikastolako jolastokian, zer da perimetroa eta zer da azalera? Zer egiten da leku bakoitzean?

matematiketan.eus

S150 Gure ikasgelan, zer da perimetroa eta zer da azalera? Zer egiten da leku bakoitzean?

matematiketan.eus

S151 Neurtu ezazu zure koaderno baten perimetroa.

matematiketan.eus



K152 Neurtu ezazu zure jertsearen perimetroa, jertsea lurrean ipinita.

matematiketan.eus

K153 Jar ezazu zire oina  $\text{cm}^2$ -ko koadroak dituen plantilla baten gainean eta estimatu ezazu bere azalera.

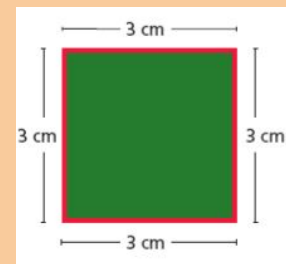


matematiketan.eus

S154 Jar ezazu zure koadernoan  $\text{cm}^2$ -ko koadroak dituen plantilla baten gainean eta estimatu ezazu bere azalera.

matematiketan.eus

S155 Eraiki ezazu  $\text{cm}^2$ -ko koadroak dituen plantilla baten gainean irudi hau eta kalkulatu bere azalera:

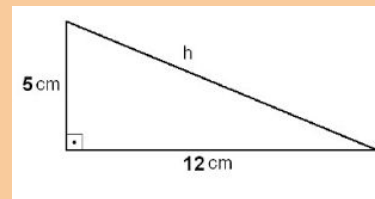


matematiketan.eus

S156 Eraiki ezazu  $\text{cm}^2$ -ko koadroak dituen plantilla baten gainean  $3 \times 8$ ko laukizuzena eta kalkulatu bere azalera.

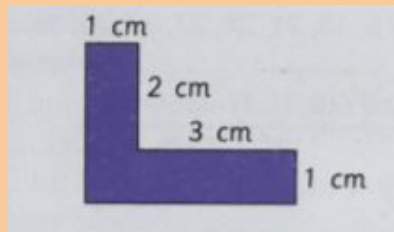
matematiketan.eus

K157 Nola egingo zenuke irudi honen azalera kalkulatzeko  $\text{cm}^2$ -ko koadroak dituen plantilla baten gainean irudikatuz gero?



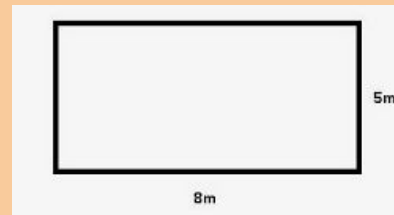
matematiketan.eus

K158 Eraiki ezazu  $\text{cm}^2$ -ko koadroak dituen plantilla baten gainean irudi hau eta kalkulatu bere azalera:



matematiketan.eus

S159 Eraiki ezazu  $\text{cm}^2$ -ko koadroak dituen plantilla baten gainean irudi hau eta kalkulatu bere azalera:



matematiketan.eus