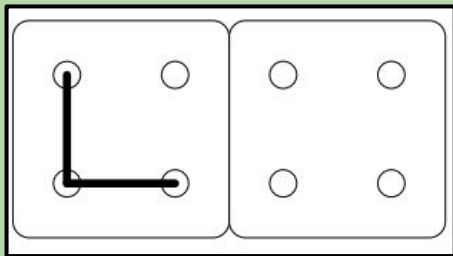


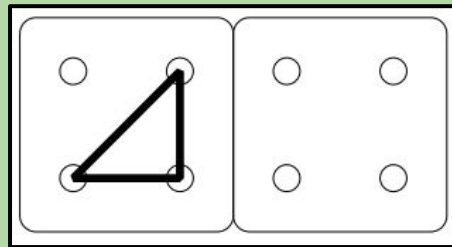
Simetria jolasa egiteko txartelak

Irudikatu ezazue eskuman, ezkerrekoaren simetrikoa



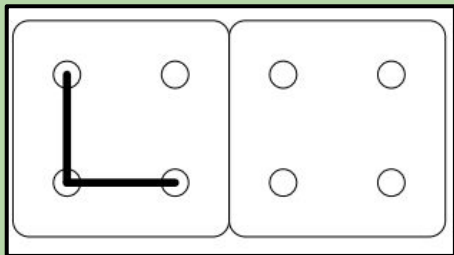
matematiketan.eus

Irudikatu ezazue eskuman, ezkerrekoaren simetrikoa



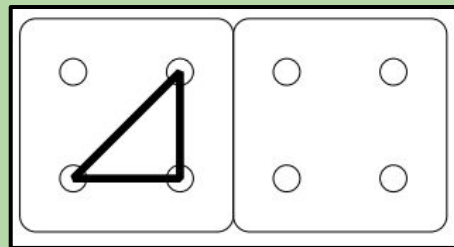
matematiketan.eus

Irudikatu ezazue eskuman, ezkerrekoaren berdina (ez simetrikoa; berdina baizik.)



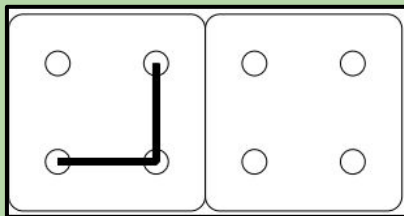
matematiketan.eus

Irudikatu ezazue eskuman, ezkerrekoaren berdina (ez simetrikoa; berdina baizik.)



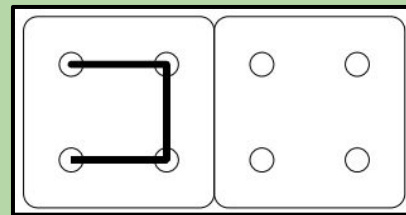
matematiketan.eus

Irudikatu ezazue eskuman, ezkerrekoaren berdina (ez simetrikoa; berdina baizik.)



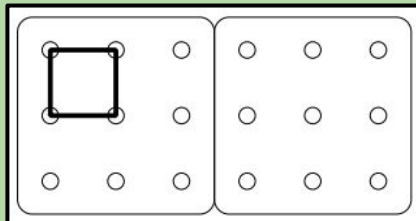
matematiketan.eus

Irudikatu ezazue eskuman, ezkerrekoaren berdina (ez simetrikoa; berdina baizik.)



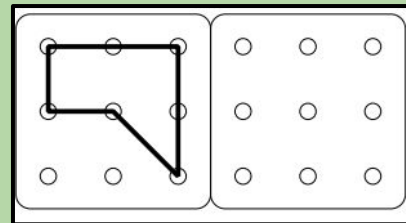
matematiketan.eus

Irudikatu ezazue eskuman, ezkerrekoaren berdina (ez simetrikoa; berdina baizik.)



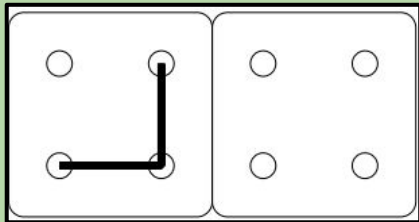
matematiketan.eus

Irudikatu ezazue eskuman, ezkerrekoaren berdina (ez simetrikoa; berdina baizik.)



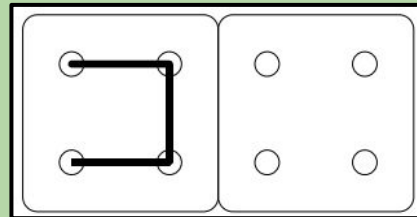
matematiketan.eus

Irudikatu ezazue eskuman, ezkerrekoaren simetrikoa.



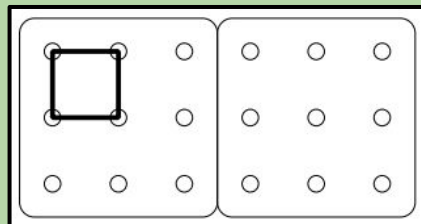
matematiketan.eus

Irudikatu ezazue eskuman, ezkerrekoaren simetrikoa.



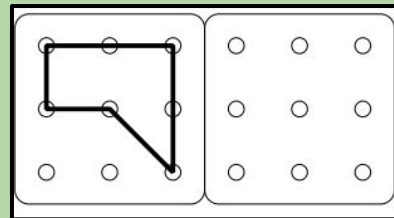
matematiketan.eus

Irudikatu ezazue eskuman, ezkerrekoaren simetrikoa.



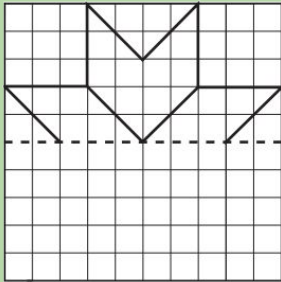
matematiketan.eus

Irudikatu ezazue eskuman, ezkerrekoaren simetrikoa.



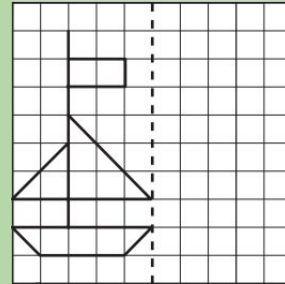
matematiketan.eus

Irudikatu ezazue behean, goikoaren simetrikoa.



matematiketan.eus

Irudikatu ezazue eskuman, ezkerrekoaren simetrikoa.



matematiketan.eus

Eraiki ezazue gelan, lurrean, irudi simetrikoa gelako tresnekin.

matematiketan.eus

Alfabetoko hizkietatik zenbat dira simetrikoak larriz idatziz gero?

matematiketan.eus

Aztertu ezazue argazki hau. Zenbat sinbolo dira simetrikoak bertan?



matematiketan.eus

Aztertu ezazue argazki hau. Zenbat sinbolo dira simetrikoak bertan?



matematiketan.eus

Eraiki ezazue bloke geometrikoak erabiliz hiruki handi simetrikoa.

matematiketan.eus

Eraiki ezazue bloke geometrikoak erabiliz hexagono handi simetrikoa.

matematiketan.eus

Zenbat simetria adatz ditu elementu honek?




matematiketan.eus

Zenbat simetria adatz ditu elementu honek?




matematiketan.eus

Zenbat simetria adatz ditu elementu honek?



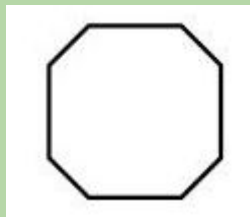
matematiketan.eus

Zenbat simetria adatz ditu elementu honek?



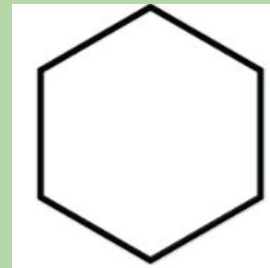
matematiketan.eus

Zenbat simetria adatz ditu elementu honek?



matematiketan.eus

Zenbat simetria adatz ditu elementu honek?



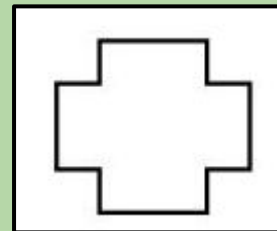
matematiketan.eus

Zenbat simetria adatz ditu elementu honek?



matematiketan.eus

Zenbat simetria adatz ditu elementu honek?



matematiketan.eus

Bilatu ikasgela 10 objektu simetriko ezberdin.

matematiketan.eus

Lehenengo 20 zenbakietatik zenbat dira simetrikoak?

matematiketan.eus